


RECHNEN MIT GELD


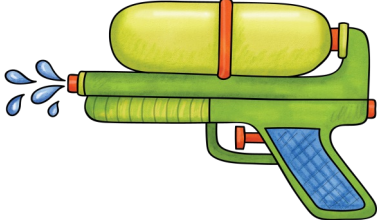
„IM SPIELZEUGLADEN“




		
2 €	6 €	12 €
		
1 €	5 €	6 €
		
7 €	10 €	4 €
		
8 €	15 €	2 €



IM SPIELZEUGLADEN

		
2 €	6 €	12 €
		
1 €	5 €	6 €
		
7 €	10 €	4 €
		
8 €	15 €	2 €

REICHT DAS GELD?



Kannst du dir den Globus kaufen?

ja

nein




REICHT DAS GELD?




Kannst du dir die Bausteine kaufen?

ja

nein



REICHT DAS GELD?



Kannst du dir den Fußball kaufen?

ja

nein




REICHT DAS GELD?




Kannst du dir die Kamera kaufen?

ja

nein



REICHT DAS GELD?



Kannst du dir den Eimer und den Teddy kaufen?

ja

nein



REICHT DAS GELD?



Kannst du dir das Buch, die Wasserpistole und das Jojo kaufen?

ja

nein




REICHT DAS GELD?



Kannst du dir das Buch kaufen?

ja

nein



REICHT DAS GELD?



Kannst du dir die Stifte und die Murmeln kaufen?

ja

nein



REICHT DAS GELD?



Kannst du dir das Windrad und das Jojo kaufen?

ja

nein




REICHT DAS GELD?



Kannst du dir die Kamera und die Bausteine kaufen?

ja

nein



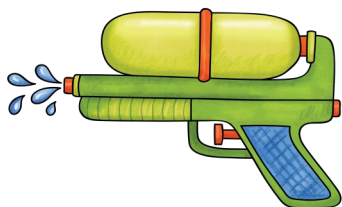
REICHT DAS GELD?




Kannst du dir die Wasserpistole kaufen?

ja

nein



REICHT DAS GELD?



Kannst du dir das Windrad und den Fußball kaufen?

ja

nein



WIE VIEL KOSTET ES?

Tom möchte sich einen Fußball und einen Teddy kaufen.

Wie viel kostet es?

Schreibe in dein Heft.

R	:						
A	:	Es kostet...					



Er bezahlt mit einem 20 Euro Schein.
Wie viel Geld bekommt Tom zurück?



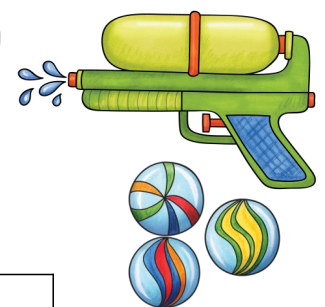
WIE VIEL KOSTET ES?

Lilli möchte sich eine Wasserpistole und Murmeln kaufen.

Wie viel kostet es?

Schreibe in dein Heft.

R	:						
A	:	Es kostet...					



Sie bezahlt mit einem 10 Euro Schein.
Wie viel Geld bekommt Lilli zurück?



LÖSUNG

R: $12\text{€} + 5\text{€} = 17\text{€}$

A: Es kostet 17€.



R: $20\text{€} - 17\text{€} = 3\text{€}$

A: Tom bekommt 3€ zurück.

LÖSUNG

R: $7\text{€} + 1\text{€} = 8\text{€}$

A: Es kostet 8€.



R: $10\text{€} - 8\text{€} = 2\text{€}$

A: Lilli bekommt 2€ zurück.

WIE VIEL KOSTET ES?

Jana möchte sich ein Jojo und ein Windrad kaufen.

Wie viel kostet es?

Schreibe in dein Heft.

R	:						
A	:	Es kostet...					



Sie bezahlt mit einem 5 Euro Schein.
Wie viel Geld bekommt Jana zurück?




WIE VIEL KOSTET ES?

Lars möchte sich ein Buch und ein Jojo kaufen.

Wie viel kostet es?

Schreibe in dein Heft.

R	:						
A	:	Es kostet...					



Er hat 15 Euro.
Wie viel Geld bekommt Lars zurück?



LÖSUNG

$$R: 2\text{€} + 2\text{€} = 4\text{€}$$

A: Es kostet 4€.




$$R: 5\text{€} - 4\text{€} = 1\text{€}$$

A: Jana bekommt 1€ zurück.

LÖSUNG

$$R: 10\text{€} + 2\text{€} = 12\text{€}$$

A: Es kostet 12€.



$$R: 15\text{€} - 12\text{€} = 3\text{€}$$

A: Lars bekommt 3€ zurück.

WIE VIEL KOSTET ES?

Leo möchte sich eine Kamera und Stifte kaufen.



Wie viel kostet es?

Schreibe in dein Heft.

R	:						
A	:	Es kostet...					




Er bezahlt mit einem 20 Euro Schein.
Wie viel Geld bekommt Leo zurück?



WIE VIEL KOSTET ES?

Susi möchte sich Bausteine und einen Teddy kaufen.



Wie viel kostet es?

Schreibe in dein Heft.

R	:						
A	:	Es kostet...					



Sie hat 15 Euro.
Wie viel Geld bekommt Susi zurück?



LÖSUNG

R: $15\text{€} + 4\text{€} = 19\text{€}$

A: Es kostet 19€.




R: $20\text{€} - 19\text{€} = 1\text{€}$

A: Leo bekommt 1€ zurück.

LÖSUNG

R: $6\text{€} + 5\text{€} = 11\text{€}$

A: Es kostet 11€.




R: $15\text{€} - 11\text{€} = 4\text{€}$

A: Susi bekommt 4€ zurück.

RÜCKGELD

Du bezahlst



für einen Globus.




Wie viel Geld bekommst du zurück?

----- €

RÜCKGELD

Du bezahlst



für eine Kamera.



Wie viel Geld bekommst du zurück?

----- €

RÜCKGELD

Du bezahlst



für eine Wasserpistole.




Wie viel Geld bekommst du zurück?

----- €

RÜCKGELD

Du bezahlst



für einen Fußball.



Wie viel Geld bekommst du zurück?

----- €

RÜCKGELD

Du bezahlst



für einen Teddy.



Wie viel Geld bekommst du zurück?

----- €

RÜCKGELD

Du bezahlst



für Stifte.




Wie viel Geld bekommst du zurück?

----- €

RÜCKGELD

Du bezahlst



für ein Jojo.




Wie viel Geld bekommst du zurück?

----- €

RÜCKGELD

Du bezahlst



für einen Eimer und Bausteine.



Wie viel Geld bekommst du zurück?

----- €

ICH FREUE MICH, DASS DU DICH FÜR MEIN MATERIAL INTERESSIERST :)

Verwendete Schriftarten:

- ABeeZee (<https://www.fontsquirrel.com>)
- Frente H1 (<https://www.fontsquirrel.com>)
- Stanberry (Jayvee Enaguas, "Stanberry", www.dafont.com, CC BY-SA 3.0)

Verwendete Grafiken:

- Kate Hadfield Designs (<https://katehadfielddesigns.com>)
- Sunnah Learners (<https://www.teacherspayteachers.com/Store/Sunnah-Learners>)
- <https://de.freepik.com/> (K.J. Pargeter, coolvector, Rawpixel, ibrandify)



Bitte beachte:

Die gewerbliche Nutzung und Weitergabe des Materials ist nicht gestattet. Das Material darf nur für eigene Unterrichtszwecke genutzt werden.

Ich wünsche dir viel Freude mit meinem Material!

Wenn du magst, schau gerne mal auf meinem Instagram-Account vorbei!

